

PRACOVNÍ LIST – 2. STUPEŇ ZŠ



Milý návštěvníku,

jsem velmi rád, že Tě mohu přivítat v Muzeu Karlova mostu. Jméno mé jest Brunčvík, a jestliže se pozorně projdeš po Karlově mostě, jistě padne Tvůj pohled i na moji sochu. Během své pozemské pouti jsem prožil mnoho dobrodružství, rád bych Ti o nich vyprávěl, ale dostal jsem list plný úkolů. Kdybys mi ovšem pomohl s jejich splněním, ušetřili bychom čas a mohl bych Ti vyprávět o mé podivuhodné cestě.

1. Přečti si text a pokus se zodpovědět otázky.



Narodila jsem se roku 1211 jako dcera slavného českého krále Přemysla Otakara I. Otec měl mnoho nápadů, za koho bych se měla provdat, měla jsem si dokonce vzít i samotného císaře Fridricha, ale odmítla jsem. Měla jsem již jiné plány. Za přispění Václava I., mého bratra, jsem založila v Praze špitál sv. Františka a roku 1234 jsem přijala řeholní roucho a stala se první abatyší nového kláštera pražských klarisek. Protože se nyní nacházíš v prostorách kláštera křižovníků s červenou hvězdou, věz, že i s tímto řádem jsem spojená.

Kdo jsem a co mě pojí s Křižovníky s červenou hvězdou?

.....

2. Přečti si text a pokus se doplnit chybějící slova.

1342, základní kámen, 10. století, Judita, zepředu i zezadu, Karel IV., Prahu, Vltavy, 1411, 1357 9.7. 5:31, Karlův most, 19. století, Juditin most, 1158 – 1173


O třech pražských mostech

V legendě o sv. Václavu je poprvé zmiňováno první překlenutí, dřevěná lávka. V se tedy již s velkou pravděpodobností dalo přes řeku přejít po mostě. Dřevěná lávka však špatně odolávala velkým vodám, které občas ohrožovaly., manželka krále Vladislava, se zasloužila o to, aby řeku překlenul kamenný most, který pak nesl její jméno a je tedy znám jako Byl vystavěn v letech Ani ten však neunikl zkáze a při jarním tání ledů v roce byl silně poškozen. se rozhodl neopravovat pobořený most, ale vybudovat nový, silnější a bytelnější. Od astrologů si nechal spočítat, kdy je vhodné položit, aby mostu byly i hvězdy nakloněny. Astrologové vypočítali dokonce i přesný čas, a tak byl základní kámen položen Pokud se pozorně podíváte, zjistíte, že již sama čísla jsou magická, čtou se stejně Most se stavěl dlouhou dobu, dokončen byl pravděpodobně až v roce Celá staletí pak spojoval břehy Vltavy jen tento most, známý jako Až v si rozvoj průmyslu vynutil další. Doufejme, že astrologové opravdu vybrali datum správně a Karlův most odolá všem nepřízním a již nebude nutné na jeho místě stavět žádný další most.

3. Která z osobností mohla přejít Vltavu po Juditině mostě, která po Karlově mostě a která řeku po žádném z těchto mostů přejít nemohla. Spoj osobnost se správným údajem.




Sv. Anežka Česká



T. G. Masaryk




Sv. Václav




Praotec Čech



Václav IV.



4. Na plánu je zachycený Karlův most, správný plánek však musí být pořádně popsáný. Ujmi se toho tak, aby bylo možné z plánu vyčíst všechny náležitosti. Nezapomeň popsat směrovou růžici.



5. Z následujících jmen vyber manželky Karla IV. V jakém pořadí se s nimi Karel oženil? Očísluj je.



Anna Falcká



Žofie Bavorská



Blanka z Valois



Judita Durynská



Anežka Česká



KAREL IV.



Anna Svídnická




Eliška Přemyslovna




Eliška Pomořanská

6. Vybarvi správně českého lva.
Kde se s českým lvem můžeš setkat?



7. Napiš, k čemu sloužily značky, jež vidíš na obrázcích.
Na volné místo můžeš nakreslit, jakou značku bys chtěl/a mít ty.



8. Spoj dílo s uměleckým slohem, ve kterém bylo vytvořeno.

Baroko

Gotika

Románský sloh

Juditin most

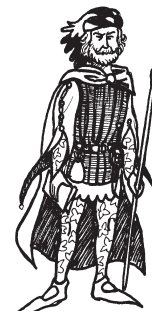

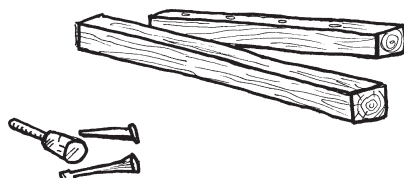


Sochy na Karlově mostě

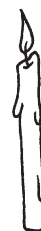



Karlův most


9. Všichni lidé, které vidíš na obrázku, se podíleli na stavbě Karlova mostu. Přiřaď, jakým nástrojem pracovali a co byl výsledek jejich práce.



10. Zakroužkuj, které atributy („poznávací znamení“) patří k Janu Nepomuckému.



11. Na následujících obrázcích je zachycena plaketa, která je k vidění i v muzeu. Najdi 8 rozdílů mezi jednotlivými obrázky, rozdílů zakroužkuj. Napiš k jednotlivým osobám, o koho se jedná.



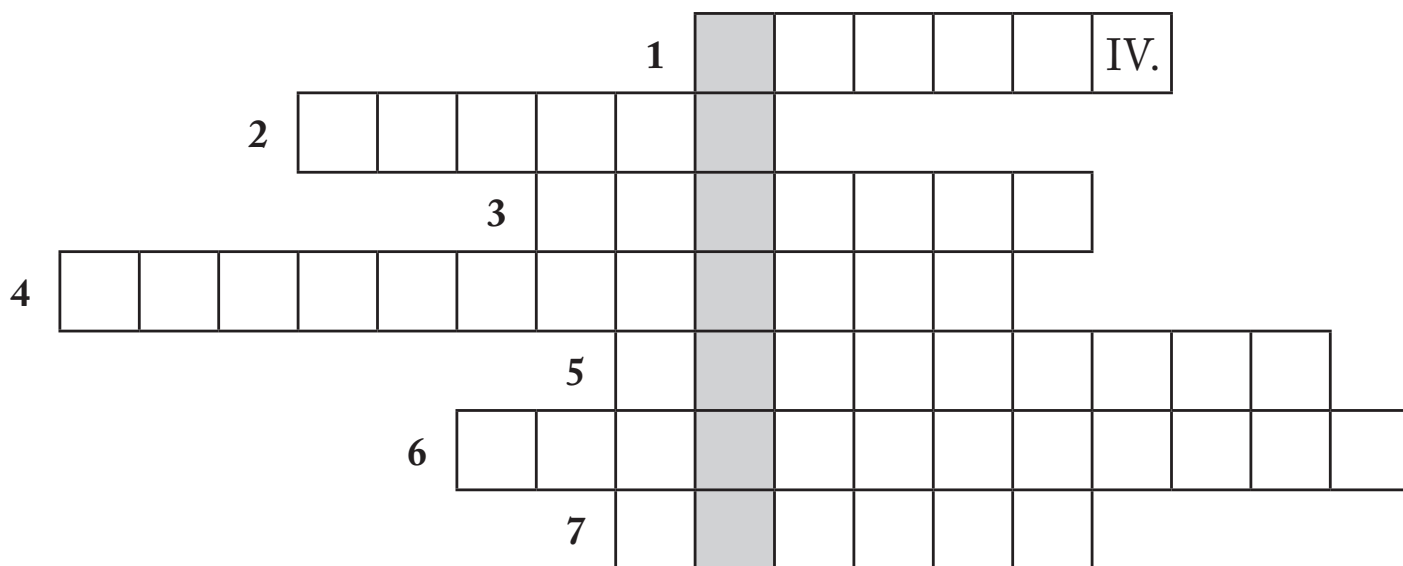
Jaký výjev je na plaketě zachycen?

12. Očísluj obrázky tak, aby sled událostí na obrázcích odpovídal legendě o sv. Janu Nepomuckém.



13. Vylušti křížovku.

1. Synem Jana Lucemburského a otcem Václava IV. byl
2. První kamenný most nesl jméno po královně jménem
3. Velkolepé slavnosti probíhající na vodní hladině k oslavě Jana Nepomuckého se nazývají
4. V základech pilířů Karlova mostu je možno nalézt (doplň v jednotném čísle)
5. Patronem kostela stojícího u křižovnického kláštera je svatý
6. Z Karlova mostu byl svržen svatý
7. Po smrti mistra Otty v roce 1375 se vedení stavby mostu ujal



A to byl již poslední úkol, děkuji Ti za pomoc. Nyní je tedy čas, abych Ti vyprávěl svůj příběh. Zastav se prosím na místě, které je ukryto v tajence křížovky, u mého pomocníka a řekni tajné heslo: „Můj otec si dobyl znaku orla, já pak chci si lva dobýt.“ Od mého pomocníka se pak dozvíš vše o mé pouti.

